

Adı:

Soyadı:.....



3-K SINIFI MATEMATİK DERSİ
VERİ TOPLAMA



ETKİNLİK-1

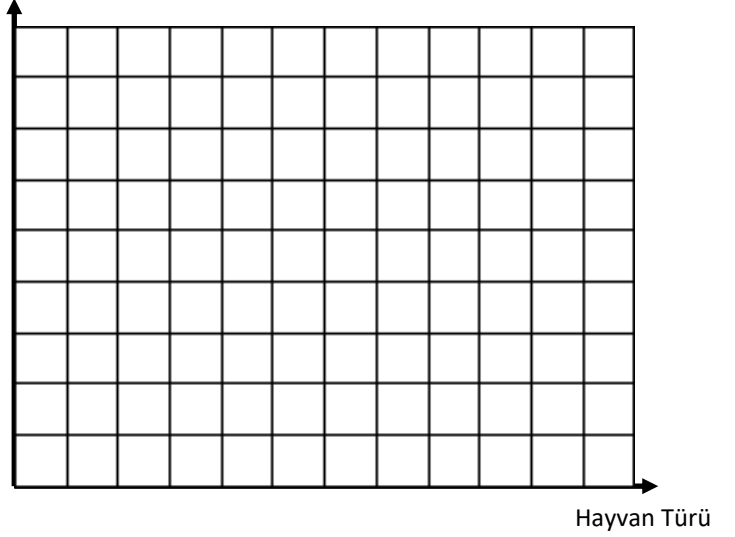
* “Ali Baba’nın çiftliğinde 25 koyun, 45 tavuk, 30 keçi ve 20 inek vardır.” Verilen bilgiye göre aşağıdaki çetele tablosunu, sıklık tablosunu ve şekil grafiğini tamamlayalım.

Hayvan Sayısı Sıklık Tablosu

Hayvan Sayısı Çetele Tablosu

Hayvan Sayısı

Hayvan Sayısı Şekil Grafiği



(Her ☺ 5 hayvanı göstermektedir.)


* “Bir manavda 12 kg elma, 9 kg muz, 18 kg portakal ve 15 kg armut var.” Verilen bilgiye göre aşağıdaki çetele tablosunu, sıklık tablosunu ve şekil grafiğini tamamlayalım. Grafiğin ismini yazmayı unutmayalım.

Meyve Miktarı Sıklık Tablosu

Meyve Miktarı Çetele Tablosu

Meyve miktarı

..... Şekil Grafiği



(Her □ 3 kg meyveyi göstermektedir.)

Adı:

Soyadı:.....



3-K SINIFI MATEMATİK DERSİ
VERİ TOPLAMA



ETKİNLİK-2

Top Sayısı Sıklık Tablosu

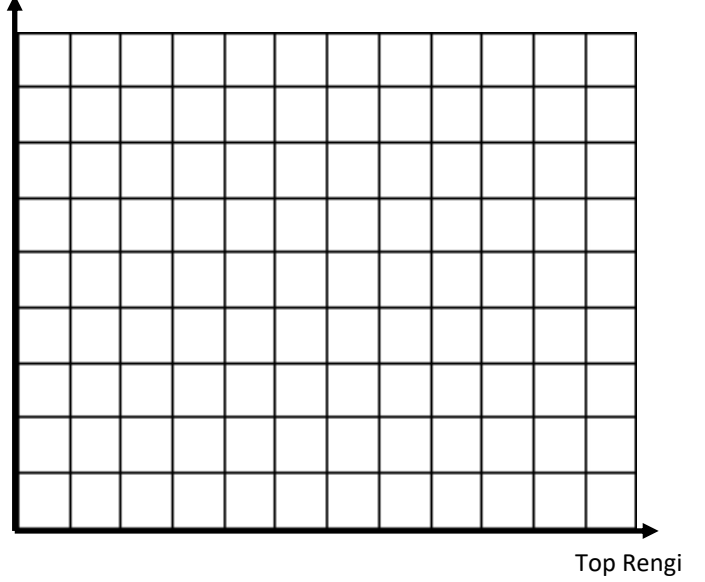
Mavi top	16
Kırmızı top	20
Beyaz top	12
Sarı top	24

Top Sayısı Çetele Tablosu

Mavi top	
Kırmızı top	
Beyaz top	
Sarı top	

Top Sayısı

..... Şekil Grafiği



(Her ○ 4 topu göstermektedir.)

Balık Sayısı Sıklık Tablosu

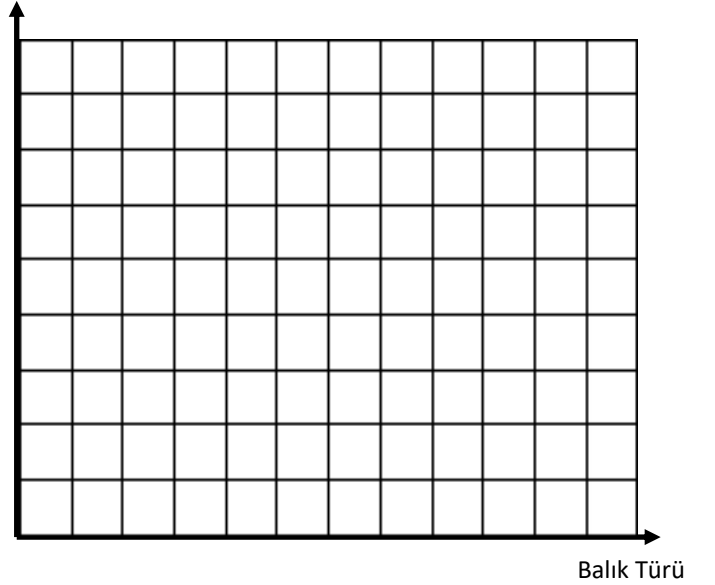
Turuncu Balık	80
Mavi Balık	60
Pembe Balık	50
Yeşil Balık	40

Balık Sayısı Çetele Tablosu

Turuncu Balık	
Mavi Balık	
Pembe Balık	
Yeşil Balık	

Balık Sayısı

..... Şekil Grafiği



(Her ☺ 10 balığı göstermektedir.)